

# 積み木

## ブロック推理②

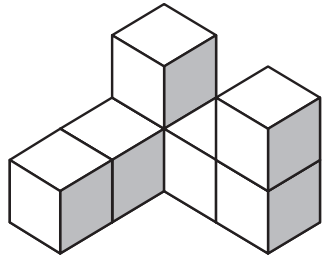
1

① 積み木の数はいくつですか？ 数字を書きましょう。

(時間：1問30秒程度)

② 左端の積み木を **★1** から見た図、 **★2** から見た図、 **★3** から見た図を描きましょう。

問題1

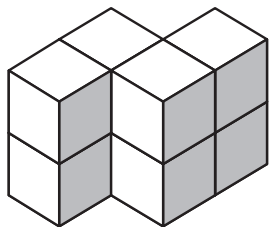


**★1** うえ

**★2** ひだり

**★3** まえ

問題2



**★1** うえ

**★2** ひだり

**★3** まえ



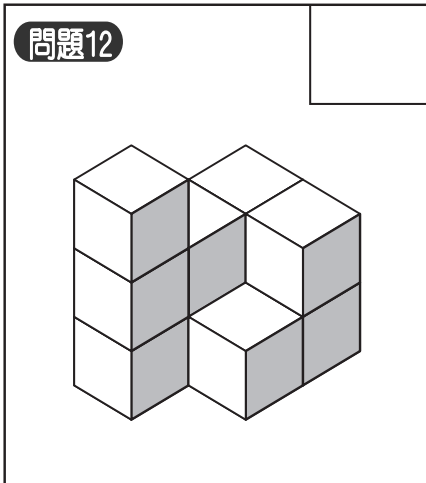



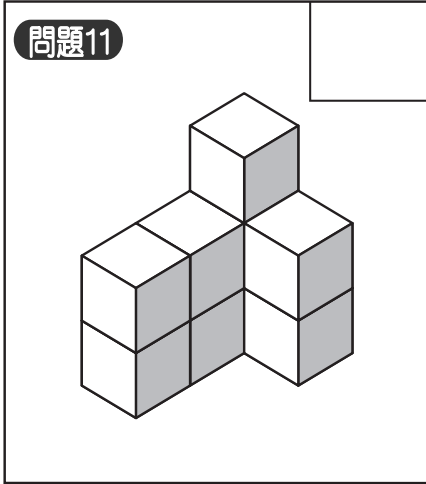
# 積み木

## ブロック推理②

① 積み木の数はいくつですか？ 数字を書きましょう。

(時間：1問30秒程度)

② 左端の積み木を **★1** から見た図、 **★2** から見た図、 **★3** から見た図を描きましょう。



① <sup>積み</sup>木の数はいくつですか？ <sup>数字</sup>を書きましょう。

(時間：1 問30秒程度)

② 左端の積み木を **★1** から見た図、 **★2** から見た図、 **★3** から見た図を描きましょう。

